

# مقياس موهبة

مقياس موهبة للقدرات العقلية المتعددة

المستوى : الصف السادس الابتدائي

---

## القسم الأول :

### التعليمات...

حدّد الكلمة التي تملأ الفراغ لتعطي علاقة مشابهة لما في داخل الصندوق الأيمن.

1:

صورة	إطار	:	بيت	؟
------	------	---	-----	---

أ جدار      ب سور      ج باب      د سقف

### التعليمات...

حدّد الكلمة التي تملأ الفراغ لتعطي علاقة مشابهة لما تحت الخط.

2:

إنسان      تننفس      حياة

وردة      عطش      ؟

أ قطف      ب لون      ج اقتلاع      د ذبول

### مثال - 3

في رأس السؤال كلمة. اختر الكلمة التي في نفس الفئة من الاختيارات المعطاة.

3: نمر

أ غزال      ب فأر      ج فهد      د أرنب

### التعليمات...

اختر الإجابة التي تتناسب مع محتوى مقدمة السؤال.

4: عبدالله أطول من محمد، ومحمد أقصر من خالد. وأطول من محمود. فأى الأربعة أقصر؟

أ عبدالله      ب محمد      ج خالد      د محمود

### التعليمات...

حدد الاختيار الذي يكمل معنى الجملة إكمالاً صحيحاً

5: زرع مصطفى بعض الأعشاب الضرورية للطهي، مثل: النعناع والريحان والسنتوت؛ وعليه فإن مصطفى استخدم السنتوت.....

أ لإعداد طعامه      ب لتعليف غنمه      ج لتزيين بيته      د لغسل ثيابه

### التعليمات...

اختر الإجابة التي تتناسب مع محتوى مقدمة السؤال.

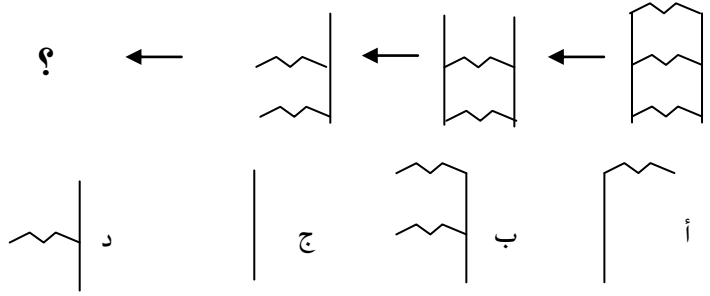
6: " كادت الشمس تغيب ، وأخشى أن يفوتنا وقت صلاة ... "

أ العصر ب المغرب ج العشاء د الفجر

### التعليمات...

أكمل الشكل الناقص لسلسلة الأشكال الآتية؟

7:



### التعليمات

حدّد الكلمة التي تملأ الفراغ لتعطي علاقة مشابهة لما في داخل الصندوق الأيمن.

8: الذنب العقاب : التبسم ؟

أ السعادة ب المعرفة ج التهكم د السخرية

### التعليمات

في رأس السؤال كلمة. اختر الكلمة التي في نفس الفئة من الاختيارات المعطاة.

9: أسد

أ ثور ب أرنب ج ذئب د جدي

### التعليمات

اختر الإجابة التي تتناسب مع محتوى مقدمة السؤال.

10: أبدع محمد، وهو الأصغر من إخوانه، في فن الرسم على الرمل، وفهد الذي هو أصغر من علي، وأكبر من صالح، لم يتعرّف بعد

على فنيات الرسم؛ فمن أكبر الإخوان؟

أ صالح ب فهد ج محمد د علي

11 : في اختبار الرياضيات كانت (هند) متفوقة على (حصة) وكانت (سلوى) متفوقة على (سعاد) في حين أن (حصة) كانت متفوقة على (سلوى) في النتيجة؛ فمن المتفوقة؟

أ هند ب حصة ج سلوى د سعاد

#### التعليمات

حدد الاختيار الذي يكمل معنى الجملة إكمالاً صحيحاً.

12 : ذهب خالد إلى المستشفى وهو يعاني من حمى شديدة. أعطاه الطبيب على أثرها أدوية متنوعة. ونصحته بتناول الفلوت بعد طبخه؛ وعليه فإن الفلوت يستخدم في..... :

أ التعقيم ب الوقاية ج العلاج د الطهي

13 : أحضر خالد إلى بيته بعضاً من أدوات المطبخ كان منها: القدر، والملقعة، والمرس، والسكين؛ وعليه فإن المرس يستخدم في..... :

أ طهي الطعام ب غسيل الملابس ج تنظيف البيت د تزيين المنزل

#### التعليمات

اختر الإجابة التي تتناسب مع محتوى مقدمة السؤال.

14 : "لم تتمكن أسرة خالد من الاستمتاع بشاطئ البحر كثيراً بسبب هبوب عاصفة رملية."

يُفهم من العبارة السابقة أن أسرة خالد:

أ لم تصل إلى الشاطئ بعد  
ب عادت إلى المنزل حالاً بعد وصولها إلى الشاطئ  
ج لم تتمكن من الخروج من المنزل بسبب العاصفة  
د حرمتها العاصفة من الاستجمام عند البحر

15 : "أيها الناس: إن ربكم واحد وإن أباكم واحد، كلكم لآدم وآدم من تراب، وإن أكرمكم عند الله أتقاكم."

يُفهم من عبارة "كلكم لآدم وآدم من تراب" أن الناس:

أ متعاونون ب متساوون ج مجتمعون د مختلفون

## القسم الثاني:

### التعليمات

في الأسئلة التالية، اختر الإجابة الصحيحة.

1: إذا كان هناك طريقان من المدينة (أ) إلى المدينة (ب) وهناك ثلاثة طرق من المدينة (ب) إلى المدينة (ج)، فما عدد الطرق الممكنة التي نسلكها من المدينة (أ) إلى المدينة (ج)؟



أ 3      ب 5      ج 6      د 8

2: إذا كان نصف عدد يساوي 18، فما ثلث هذا العدد؟

أ 10      ب 12      ج 14      د 16

3: تستهلك سيارة  $\frac{1}{10}$  لتر بنزين لكل كيلو متر، فكم لتراً تستهلك لقطع مسافة 500 كيلو متر؟

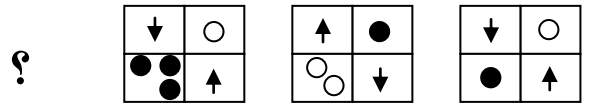
أ 40      ب 50      ج 400      د 500

4: ما الشكل الذي يجب وضعه مكان علامة الاستفهام؟

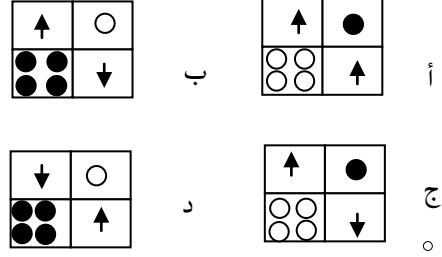
H	I	H
W	≅	M
?	⌊	⌋

أ ⌋      ب ⌊  
ج ⌊      د ⌋

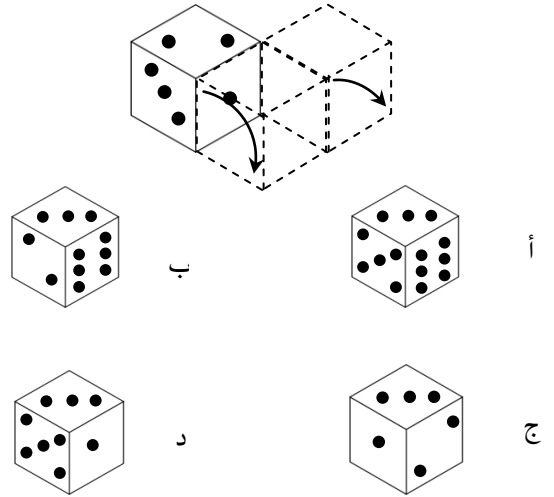
5:



في التسلسل أعلاه، ما الشكل الذي يجب وضعه مكان علامة الاستفهام؟



6: إذا دحرجنا النرد التالي مرتين كما في الشكل أدناه؛ فأى الأشكال الآتية يمثل النرد بعد الدحرجة؟ ( مجموع النقاط في كل وجهين متقابلين يبلغ 7 نقاط )

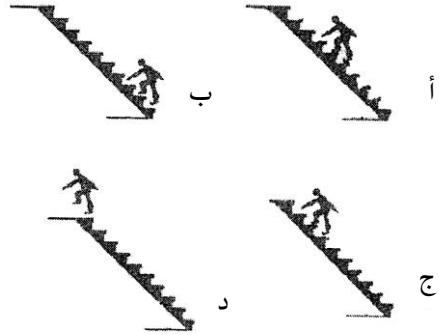


القسم الثالث :

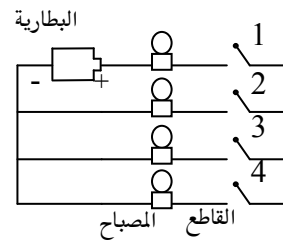
التعليمات

في الأسئلة التالية، اختر الإجابة الصحيحة.

1: إذا كان سلمٌ كهربائي يتحرك نحو الأسفل، وأراد شخص أن يصعده بعكس اتجاهه، وبسرعة مساوية لسرعة المصعد؛ فأى الأشكال أدناه يبين الوضع الصحيح للشخص بعد نصف دقيقة؟

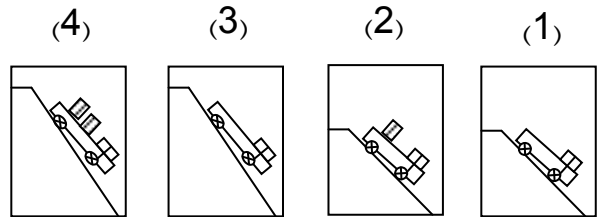


2: في الشكل أدناه دائرة كهربائية أغلقت ثلاثة قواطع فيها فلم يضى أى مصباح، فما رقم القاطع الذي يلزم إغلاقه بعد ذلك لتضيء جميع المصابيح؟



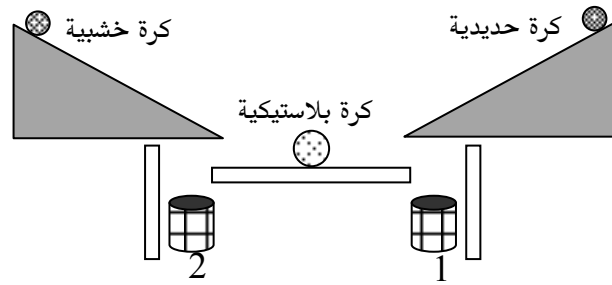
أ القاطع رقم (4) ب القاطع رقم (2) ج القاطع رقم (1) د القاطع رقم (3)

3: لدراسة تأثير ارتفاع السطح المائل على التسارع، فأى الأشكال الآتية نقارن بينها؟



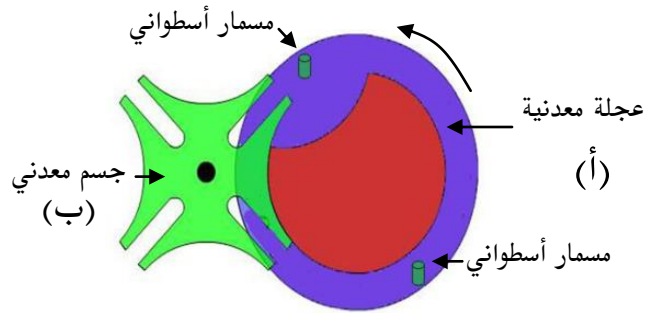
أ 2,1 ب 4,2 ج 3,1 د 4,3

4: في الشكل أدناه عندما تنزلق الكرتان الحديدية والخشبية (أقطارهما متساوية) في وقت واحد باتجاه الكرة البلاستيكية الساكنة (الأسطح عديمة الاحتكاك)، فإن الكرة البلاستيكية:



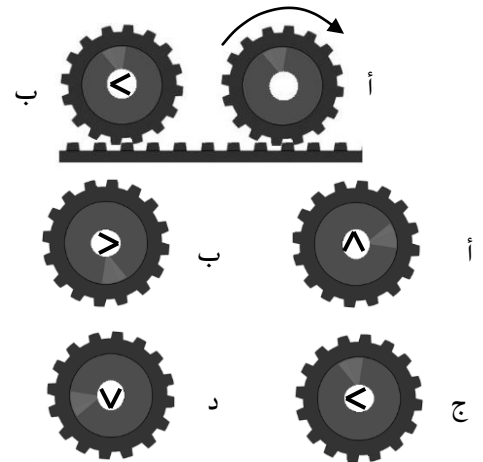
- أ تتجه نحو السلة (1)      ب تتجه نحو السلة (2)  
 ج تدور حول نفسها      د تبقى ساكنة

5: في الشكل أدناه تدور العجلة المعدنية (أ) حول نفسها عكس عقارب الساعة. ومثبت في العجلة (أ) مسماران أسطوانيان الشكل. وأعلى العجلة جسم معدني (ب)، ولكي يكمل الجسم المعدني (ب) دورة كاملة حول نفسه، فإن على العجلة (أ) أن تدور حول نفسها:



- أ مرة      ب مرتين      ج 3 مرات      د 4 مرات

6: في الشكل أدناه إذا تحرك الترس (أ) ثلاثة أرباع دورة باتجاه عقارب الساعة، فما الشكل المتكون داخل الترس (ب)؟





## القسم الرابع :

### التعليمات

العبارة الآتية تحوي مقدّمة غير واقعية تحتها خط، اختر الإجابة التي تكمل العبارة منطقيًا.

1: إذا كانت النار باردة، والصيف حارًا؛ فإن النار ...

أ قيس      ب دفء      ج هلاك      د صقيع

### التعليمات

حدّد الاختيار الذي ترتبط فيه الكلمتان بنفس علاقة الكلمتين في رأس السؤال.

2: جفن: عين

أ ظفر: أصبع      ب يد: رأس      ج رجل: صدر      د أنف: فم

### التعليمات

حدّد الشكل الذي يملأ الفراغ ليعطي علاقة مشابهة لما في داخل الصندوق الأيمن.



3:



### التعليمات

املأ الفراغ بما يناسب من الاختيارات.

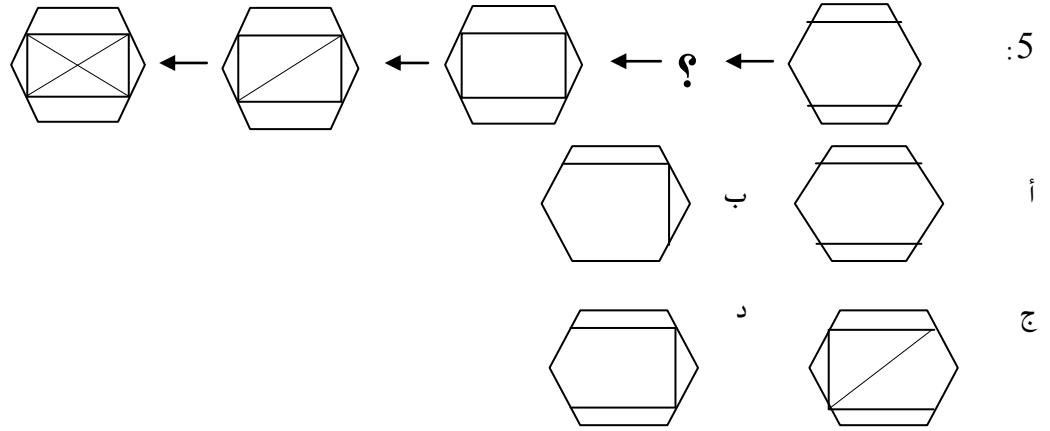
4:

1	12	شهر	؟
---	----	-----	---

أ يوم      ب أسبوع      ج سنة      د عقد

التعليمات

حدّد الشكل الذي يملأ الفراغ بما يناسب من الاختيارات.



التعليمات

حدّد الاختيار الذي يوصلك إلى النتيجة المنطقية الصحيحة من بين البدائل.

6: ذهبت إلى المزرعة فرأيت مجموعة من الخرفان فعددت أرجلها وعيونها فوجدت أن لها سويماً 28 رجلاً و 14 عيناً؛ فما عدد الخرفان التي رأيتهما؟

أ 7      ب 14      ج 21      د 42

التعليمات

في كل سؤال مما يأتي عبارة تحوي مقدّمة غير واقعية تحتها خط، اختر الإجابة التي تكمل العبارة منطقيّاً.

7: إذا كان الطحين يترولاً، وكان الماء يستخدم للحياة، فإن الطحين يستخدم ...

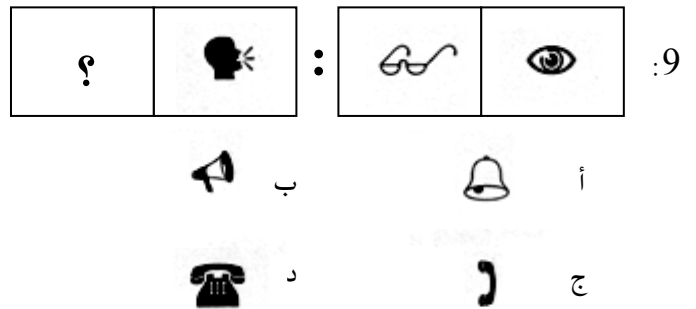
أ للبناء      ب في الدولاب      ج وقوداً      د في المنزل

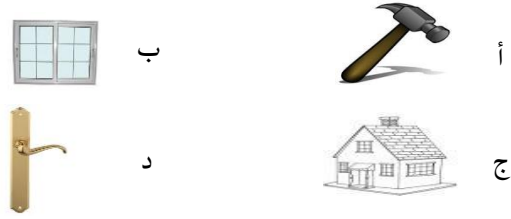
8: إذا كان طبيب الأسنان ميكانيكياً، وكان القبطان في السفينة؛ فإن طبيب الأسنان في ...

أ العيادة      ب المستشفى      ج السيارة      د الورشة

التعليمات

حدّد الشكل الذي يملأ الفراغ ليعطي علاقة مشابهة لما في داخل الصندوق الأيمن.

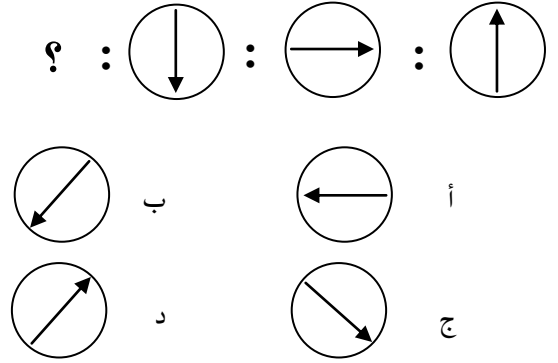




### التعليمات

في رأس السؤال كلمة. اختر الفئة التي تناسبها من الاختيارات.

11 : اختر الشكل المناسب ليكون مكان علامة الاستفهام؟

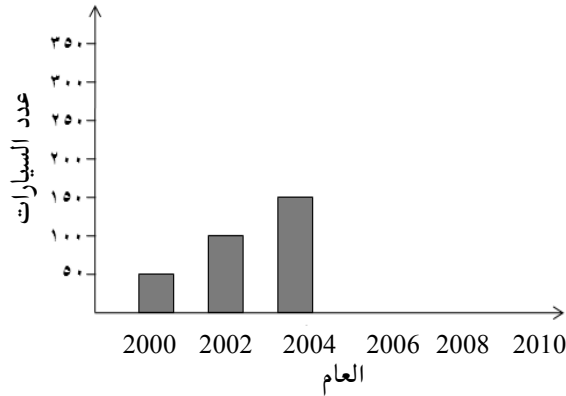


### التعليمات

املاً الفراغ بما يناسب من الاختيارات.

12 : يمثل الشكل البياني أدناه إنتاج مصنع صغير للسيارات في عدة سنوات متتالية ، فإذا استمر إنتاج هذا المصنع وفق هذه المعدلات؛ فإن إنتاج هذا المصنع

من السيارات عام 2010 سيصبح:



أ 250 ب 270

ج 280 د 300

### التعليمات

حدّد الاختيار الذي يوصلك إلى النتيجة المنطقية الصحيحة من بين البدائل.

13: "جلس أحمد على الكرسي الموجود في المطبخ" وعليه فإنه يمكن أن نقول إن أحمد:

أ يصلح الثلاجة ب يقرأ كتاباً ج موجود في المطبخ د ينتظر والدته

14: "إذا كانت كل العصافير تنهق وبعضها يغوص. وإذا كانت كل الأسود تغوص وبعضها ينهق" ؛ بناءً على كل هذا يمكن القول إن:

أ كل الأسود والعصافير تغوص  
ب بعض الأسود تنهق ولا تغوص  
ج كل العصافير تنهق وتغوص  
د بعض الأسود وكل العصافير تنهق