

مقياس موهبة

مقياس موهبة للقدرات العقلية المتعددة

المستوى : الصف الثالث الابتدائي

القسم الاول:

تعليمات

حدّد الكلمة التي تملأ الفراغ لتعطي علاقة مشابهة لما في داخل الصندوق الأيمن.

1:

صورة	إطار	•	بيت	؟
------	------	---	-----	---

أ جدار ب سور ج باب د سقف

تعليمات

حدّد الكلمة التي تملأ الفراغ لتعطي علاقة مشابهة لما تحت الخط.

2:

إنسان تَنْفُسُ حياة

وردة عطش ؟

أ قطف ب لون ج اقتلاع د ذبول

تعليمات

اختر الإجابة التي تتناسب مع محتوى مقدّمة السؤال

3: عبد الله أطول من محمد، ومحمد أقصر من خالد، وأطول من محمود. فأى الأربعة أقصر؟

أ عبد الله ب محمد ج خالد د محمود

تعليمات

حدّد الاختيار الذي يكمل معنى الجملة إكمالاً صحيحاً.

4: زرع مصطفى بعض الأعشاب الضرورية للطهي، مثل: النعناع والريحان والسُّنُوت؛ وعليه فإن

مصطفى استخدم السُّنُوت

أ لإعداد طعامه ب لتعليف غنمه ج لتزيين بيته د لغسل ثيابه

تعليمات

اختر الإجابة التي تتناسب مع محتوى بداية السؤال.

5: " كادت الشمس تغيب، وأخشى أن يفوتنا وقت صلاة ... "

أ العصر ب المغرب ج العشاء د الفجر

التعليمات

حدّد الكلمة التي تملأ الفراغ لتعطي علاقة مشابهة لما في داخل الصندوق الأيمن.

6:

بنج	طبيب
-----	------

 :



صافرة	؟
-------	---

أ خطأ ب حكم ج مباراة د لاعب


التعليمات

حدّد الشكل الذي يملأ الفراغ ليعطي علاقة مشابهة لما في داخل الصندوق الأيمن.

7:

	
---	---

 :

	؟
--	---




د



ج



ب



أ

التعليمات

حدد الاختيار الذي يكمل معنى الجملة إكمالاً صحيحاً.

8: ذهب أحمد لزيارة خالد، وأحضر له هدية قيمة، وعندما فتحها خالد وجد فيها: شماغاً، وثرواناً، وثوباً،

ومشلاً؛ وعليه فإن الثروان من

أ العطور ب الملابس ج الساعات د المشروبات

القسم الثاني:

تعليمات

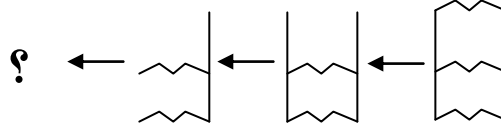
اختر الإجابة الصحيحة.

1: إذا كان عند محمد 21 حمامة و 7 دجاجات، فما عدد الطيور التي عنده؟

- أ 26 ب 28 ج 30 د 32

تعليمات

أكمل الشكل الناقص لسلسلة الأشكال الآتية؟



- أ ب ج د

التعليمات...

في الأسئلة التالية، اختر الإجابة الصحيحة

3: عمل محمد 19 ساعة في شهر محرم، و 19 ساعة في شهر صفر، و 22 ساعة في شهر ربيع الأول؛ فما مجموع الساعات التي عملها في الأشهر الثلاثة؟

أ 40 ب 50 ج 60 د 70

4: أعمار ياسر ومحمد وأحمد وصالح هي 10، 15، 20، 17؛ فإذا كان عمراً صالح وياسر عددين فرديين، ومحمد أصغر


من أحمد، فإن عمر محمد:

أ 10 ب 15 ج 17 د 20

التعليمات...

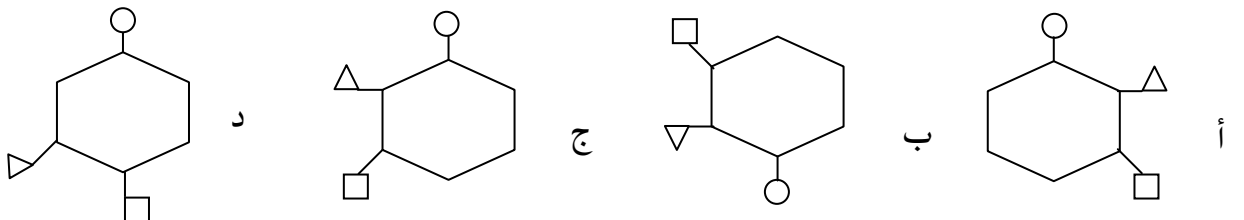
أكمل الشكل الناقص في الأشكال الآتية؟

5: ما الشكل الذي يجب وضعه مكان علامة الاستفهام؟



أ ب ج د

6: ما الشكل المختلف في الأشكال الآتية؟

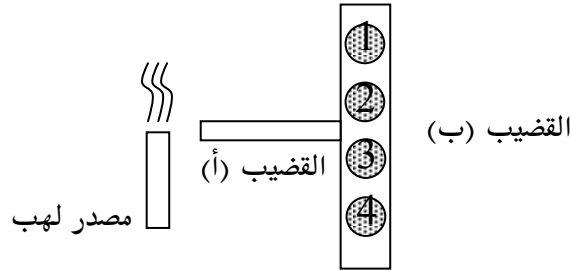


القسم الثالث:

التعليمات....

في الأسئلة الآتية، اختر الإجابة الصحيحة.

1: في الشكل أدناه، قضيب معدنيّ (أ) متصل بقضيب معدنيّ آخر (ب) ملصق به قطع معدنية خفيفة (1, 2, 3, 4) بواسطة الشمع؛ فإذا سخّنا القضيب (أ)، فأَي القطع المعدنية تسقط أولاً؟

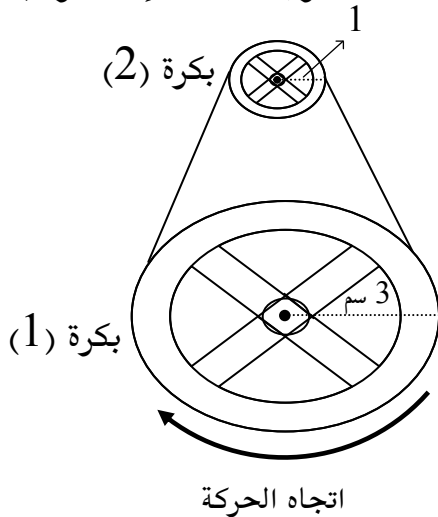


أ 1 و 2 ب 3 و 4 ج 2 و 3 د 1 و 4

2: مرّ رجل بجانب بوصلة فتحرك مؤشرها، والسبب في ذلك أن الرجل:

أ اتجه نحو الجنوب ب اتجه نحو الشمال ج يحمل قطعة مغناطيس د يحمل بطارية جافة

3: في الشكل أدناه، إذا تحركت البكرة (1) دورة واحدة باتجاه عقارب الساعة، فإن البكرة (2) ستدور:



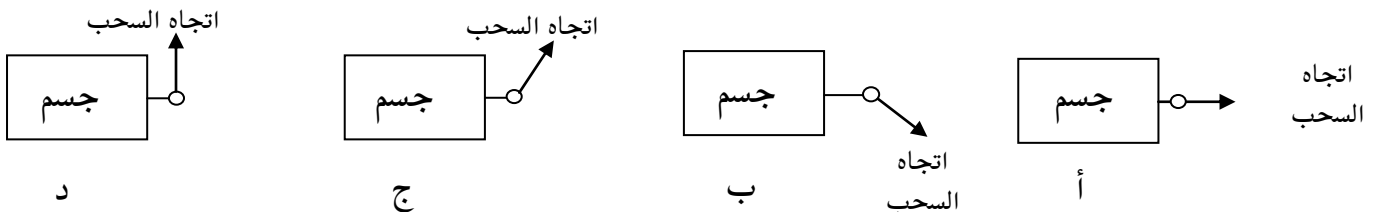
أ دورة واحدة مع عقارب الساعة

ب دورتين عكس عقارب الساعة

ج ثلاث دورات مع عقارب الساعة

د دورتين مع عقارب الساعة

4: أي الأوضاع الآتية يمكن بواسطته سحب كتلة متساوية من نفس المادة على سطح أملس بأقل قوة؟



د

ج

ب

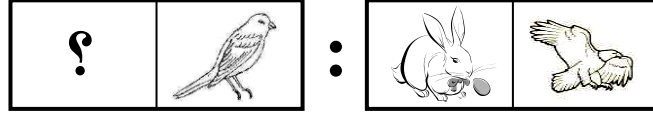
أ

القسم الرابع:


التعليمات....

حدّد الشكل الذي يملأ الفراغ ليعطي علاقة مشابهة لما في داخل الصندوق الأيمن.

1:



ب



أ



د

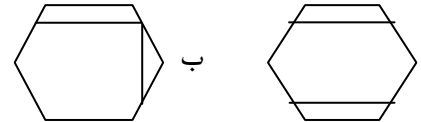
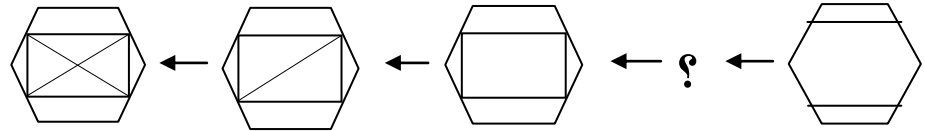


ج

التعليمات....

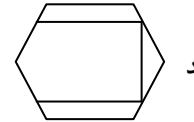
حدّد الشكل الذي يملأ الفراغ بما يناسب من الاختيارات.

2:



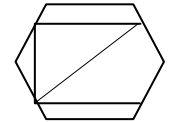
ب

أ



د

ج



التعليمات....

حدّد الاختيار الذي يوصلك إلى النتيجة المنطقية الصحيحة من بين البدائل.

3: ذهبت إلى المزرعة فرأيت مجموعة من الخرفان فعددت أرجلها وعيونها فوجدت أن لها سويماً 28 رجلاً و

14 عيناً؛ فما عدد الخرفان التي رأيتها؟

42

د

21

ج

14

ب

7

أ

التعليمات...

العبارة الآتية تحوي مقدّمة غير واقعية تحتها خط، اختر الإجابة التي تكمل العبارة منطقيًا.

4: إذا كانت النار باردة، والصيف حارًا؛ فإن النار ...

أ قبس ب دفع ج هلاك د صقيع

التعليمات...

في كل سؤال مما يأتي عبارة تحوي مقدّمة غير واقعية تحتها خط، اختر الإجابة التي تكمل العبارة منطقيًا.

5:



إذا كان الدجاج بصطاد الأرانب، وكان النسر جارحًا؛ فإن الدجاج ...



يدجن

د




يفترس

ج



يُربى

ب



يحلّق

أ


التعليمات... اختر الإجابة التي تتناسب مع محتوى مقدّمة السؤال.

6: تخرج محمد من الجامعة قبل وليد الذي تخرّج بعد زيد وقبل أحمد، فأى الأربعة كان آخرهم تخرّجًا؟

أ محمد ب وليد ج زيد د أحمد

7: " اشتم طارق رائحة عطرية، وسمع زقزقة عصافير جميلة، وكان يتأمل في هذا الجمال الذي جمع بين
الرائحة والألحان "

يدل هذا على أن طارقاً كان يجلس في:



د
محل بيع ورود



ج
حديقة



ب
شاطئ

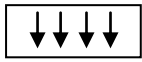


أ
محل بيع عطورات

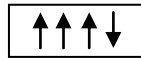
التعليمات

حدّد الشكل المناسب ليكون مكان علامة الاستفهام.

8: : ↑↓↑↑ : ↑↑↓↑ : ↑↑↑↓ :



د



ج



ب



أ

التعليمات

حدّد الاختيار الذي يوصلك إلى النتيجة المنطقية الصحيحة من بين البدائل.

9: ذهب مروان إلى السوق، فرأى عند التاجر أسماكاً ودجاجاً يمتلكون سوياً 20 عيناً و 10 أرجل، فما عدد الدجاج؟

أ 5 ب 10 ج 15 د 20